

EN ESTE MÓDULO VAMOS A ANALIZAR DISTINTOS SIGNIFICADOS DE LA SUMA. EN PARTICULAR VAMOS A VER CÓMO FUNCIONA COMO REUNIR O AVANZAR.

PARA ESO COMENZAMOS CON UN JUEGO: LA CARRERA DE LOS YACARÉS. EN ESTE JUEGO, CADA JUGADOR DEBE TIRAR DOS DADOS PARA SABER CUÁNTOS CASILLEROS DEBE AVANZAR.


AVANZARÁ LO QUE SUMEN LOS DOS DADOS JUNTOS.

LUEGO LE TOCA EL TURNO AL SIGUIENTE JUGADOR.


EL PRIMERO QUE LLEGUE A LA FIESTA QUE VEMOS AL FINAL DEL TABLERO ES EL GANADOR.



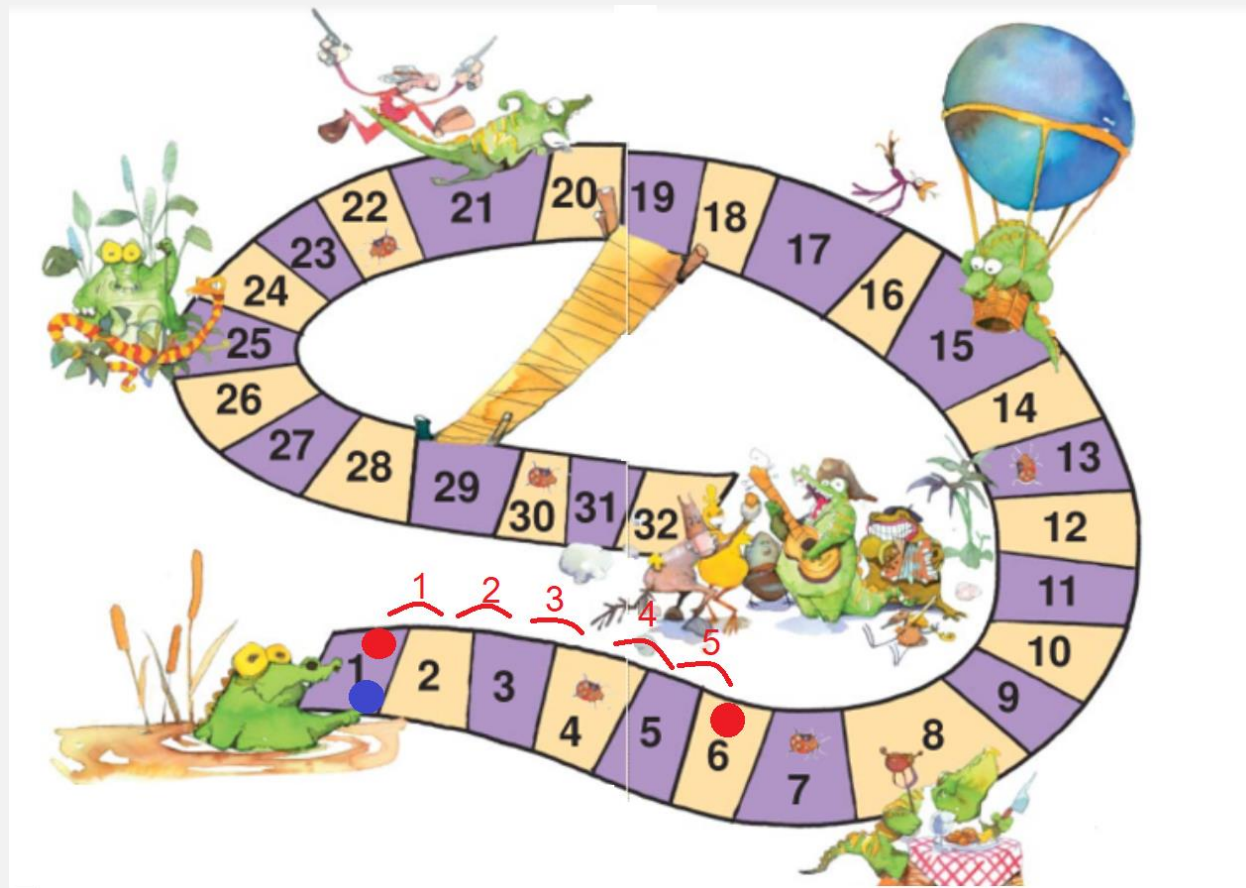
LUCÍA (FICHA ROJA) Y JULIANA (FICHA AZUL) ESTÁN POR EMPEZAR A JUGAR. AMBAS PARTEN DESDE EL CASILLERO 1. LUCÍA JUEGA PRIMERO Y SACA ESTOS DADOS:



¿CUÁNTOS CASILLEROS TIENE QUE AVANZAR?
LUCÍA CONTÓ UNO POR UNO
TODOS LOS PUNTOS DEL DADO
PARA LLEGAR AL TOTAL, DE LA
SIGUIENTE MANERA:




COMO CONTÓ 5 PUNTITOS DECIDIÓ AVANZAR 5 CASILLEROS DE LA SIGUIENTE FORMA:




OTRA FORMA DE LLEGAR AL 6 PODRÍA HABER SIDO AVANZAR PRIMERO 2 CASILLEROS COMO INDICA EL PRIMER DADO DESDE EL 1 Y LUEGO, A PARTIR DEL 3, SALTAR OTROS 3 CASILLEROS POR LO QUE SALIÓ EN EL SEGUNDO DADO.

LUEGO LE TOCÓ EL TURNO A JULIANA.
TIRÓ LOS DADOS Y LE SALIÓ ESTO:



JULIANA CONTÓ LOS PUNTITOS DE CADA DADO Y DIJO QUE SACÓ UN 3 Y UN 4.
LUEGO, EN VEZ DE CONTAR TODOS LOS PUNTITOS JUNTOS DECIDIÓ SUMAR ESAS DOS CANTIDADES.



JULIANA PENSÓ QUE JUNTAR TODOS LOS PUNTITOS ERA LO MISMO QUE SUMAR. PARA HACER ESTA SUMA PENSÓ EL 3 EN SU CABEZA Y DESPUÉS CONTÓ 4 NÚMEROS MÁS: 4, 5, 6 Y 7.

ASÍ LLEGÓ AL 7 QUE ES EL RESULTADO DE ESA SUMA.

LUEGO SE PREGUNTÓ A QUÉ CASILLA IBA A TENER QUE MOVER SU FICHA.

COMO ESTABA EN EL 1 Y TENÍA QUE AVANZAR 7 SE LE OCURRIÓ QUE TAMBIÉN PODÍA

HACER UNA SUMA DE LA SIGUIENTE MANERA: **1 + 7**

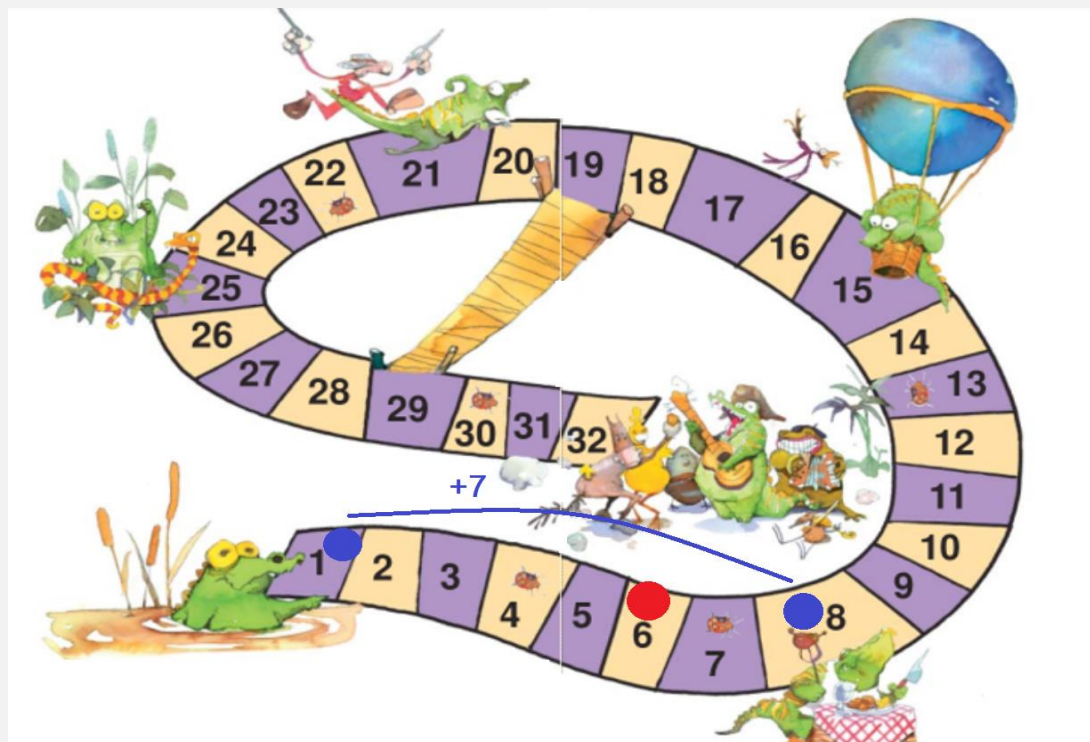
PARA RESOLVERLA PARTIÓ DESDE EL 1 Y CONTÓ 7 NÚMEROS MÁS DE LA SIGUIENTE FORMA: 2, 3, 4, 5, 6, 7 Y 8.

$$1 + 7 = 8$$

LUCÍA LE DIJO QUE ERA MÁS FÁCIL HACER **7 + 1**. PARTIR DEL 7 Y AGREGARLE 1.

$$7 + 1 = 8$$

ASÍ DECIDIÓ QUE PODÍA SALTAR DIRECTAMENTE DESDE EL CASILLERO 1 AL 8.



ENTONCES, LUCÍA, MIRANDO JUGAR A SU AMIGA, SE CONVENCIO DE ALGO:
**ES IMPORTANTE QUE RECUERDES QUE, ADEMÁS DE USAR LA SUMA PARA
 RESOLVER SITUACIONES EN LAS QUE HAY QUE AGREGAR, TAMBIÉN SE USA LA
 SUMA PARA:**

- **PROBLEMAS EN LOS QUE HAY QUE AVANZAR DESDE UN CASILLERO HASTA OTRO QUE ESTÁ MÁS ADELANTE.**
- **CALCULAR LA CANTIDAD DE COSAS QUE TIENE UN GRUPO, CONJUNTO O COLECCIÓN DESPUÉS DE HABER JUNTADO O REUNIDO OTRAS DOS.**

EJERCICIOS:


1- JULIÁN ESTABA JUGANDO CON LOS DADOS Y SACÓ ESTO:



¿CUÁNTOS PUNTOS JUNTÓ?

- A) 10
- B) 5
- C) 11 (**CORRECTA**)

2-JUAN ESTABA JUGANDO CON DADOS Y SACÓ ESTO



¿CUÁL DE ESTAS CUENTAS LE SIRVE PARA SABER CUÁNTOS PUNTOS JUNTÓ?

- A) 5+4 (**CORRECTA**)
- B) 5-4
- C) 3+4

3- ANA ESTÁ JUGANDO AL JUEGO DE LA OCA.
ESTÁ EN EL CASILLERO 3 Y TIENE QUE AVANZAR 3 CASILLEROS.
¿A QUÉ CASILLERO VA A LLEGAR?



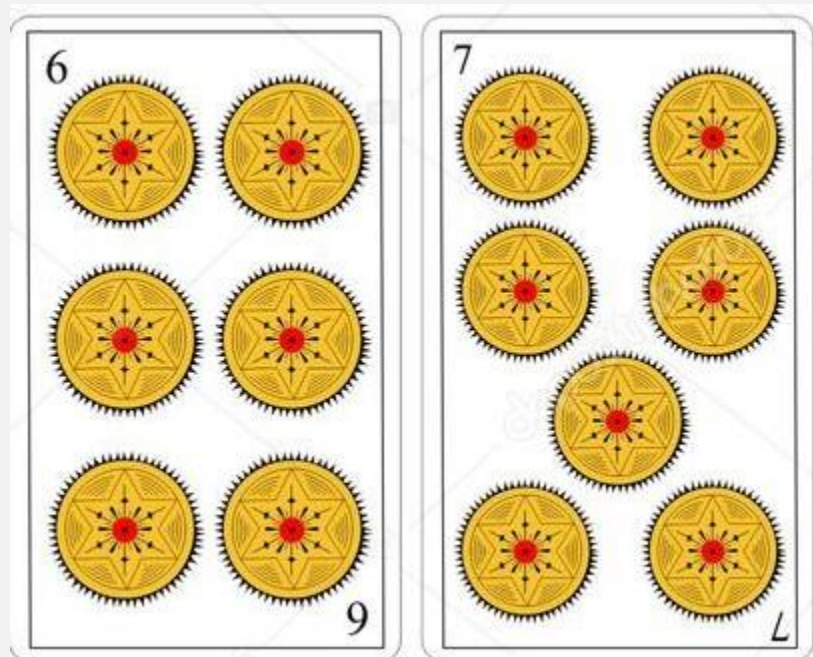
- A) 3
- B) 5
- C) 6 (CORRECTA)

4- NINA ESTÁ JUGANDO AL JUEGO DE LA OCA.
ESTÁ EN EL CASILLERO 4 Y, EN ESTE TURNO, TIENE QUE AVANZAR 5 CASILLEROS.
¿QUÉ CUENTA PUEDE SERVIRLE PARA SABER EN QUÉ CASILLERO VA A CAER?



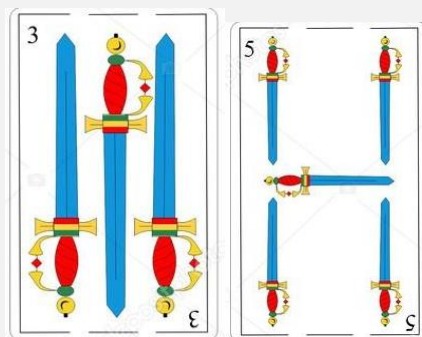
- A) 4-5
- B) 4X5
- C) 4+5 (CORRECTA)

5- DANTE SACÓ ESTAS CARTAS.
¿CUÁNTOS OROS JUNTÓ?



- A) 12 OROS
- B) 13 OROS (**CORRECTA**)
- C) 14 OROS

6) LAUTARO SACÓ ESTAS CARTAS.
¿CUÁNTAS ESPADAS JUNTÓ?



- A) 8 ESPADAS (**CORRECTA**)
- B) 9 ESPADAS
- C) 7 ESPADAS

7) LUNA ESTÁ JUGANDO A LA CARRERA DE YACARÉS.
ESTÁ EN EL CASILLERO 6 Y TIENE QUE AVANZAR 8 CASILLEROS.
¿EN QUÉ CASILLERO VA A CAER?



- A) 13
- B) 14 (CORRECTO)
- C) 15

PROBLEMAS:

8) LUCÍA SACÓ ESTOS DADOS:



¿CUÁNTOS CASILLEROS TIENE QUE AVANZAR SI ESTÁ EN EL CASILLERO 2?
EXPLICÁ CÓMO LOS CONTASTE.

- 9) ANTES DE ESTA JUGADA LUCÍA ESTABA EN EL CASILLERO 6.
MARCÁ EL CASILLERO AL QUE LLEGÓ LUCÍA DESPUÉS DE AVANZAR 5 CASILLEROS.




- 10) EN EL SIGUIENTE TURNO, JULIANA SACÓ ESTOS DADOS Y PENSÓ EN AVERIGUAR CUÁNTO TENÍA QUE AVANZAR USANDO UNA SUMA.




- ¿QUÉ SUMA PUEDE HACER?
¿ES LA ÚNICA SUMA QUE PUEDE USAR?


- 11) NICOLÁS AVANZÓ 3 CASILLEROS DESDE EL CASILLERO 12.
JULIANA AVANZÓ 6 CASILLEROS DESDE EL CASILLERO 9.
¿QUIÉN VA GANANDO?



- 12) ESTE JUEGO CONSISTE EN JUNTAR LAS VAQUITAS DE SAN ANTONIO .
SE SACAN DOS CARTAS CON VAQUITAS DE SAN ANTONIO QUE JUNTA CADA JUGADOR.
EL QUE TIENE MÁS VAQUITAS EN UNA PARTIDA LA GANA Y SE LLEVA TODAS LAS CARTAS.
ESTAS SON LAS CARTAS QUE SACÓ SALVADOR.
¿CUÁNTAS VAQUITAS TIENE? ¿CÓMO LAS CONTASTE?



13) EN EL MISMO JUEGO BAUTISTA SACÓ LAS SIGUIENTES CARTAS:




PENSÓ QUE PODÍA SUMAR $7+4$ PERO NO SABÍA EL RESULTADO DE ESA CUENTA.

ENTONCES USÓ LA BANDA NUMÉRICA.

PRIMERO SE PARÓ CON EL DEDO EN EL NÚMERO 7.

¿CÓMO PUEDE SEGUIR?



14) EN LA SEGUNDA PARTIDA BAUTISTA Y SALVADOR SACARON LAS SIGUIENTES CARTAS.

¿CUÁNTAS VAQUITAS JUNTÓ CADA UNO?

¿QUIÉN GANÓ?

BAUTISTA	SALVADOR
TOTAL:	TOTAL:

8) AL FINAL DEL JUEGO, BAUTISTA QUE ESTUVO SIEMPRE CONTANDO LOS DIBUJOS DE LAS VAQUITAS UNO POR UNO, SE DIO CUENTA DE QUE SALVADOR LO HACÍA MÁS RÁPIDO USANDO SOLO LOS NÚMEROS QUE APARECÍAN EN LAS CARTAS.

¿CÓMO TE PARECE QUE HACÍA SALVADOR PARA SABER CUÁNTAS VAQUITAS JUNTABA?