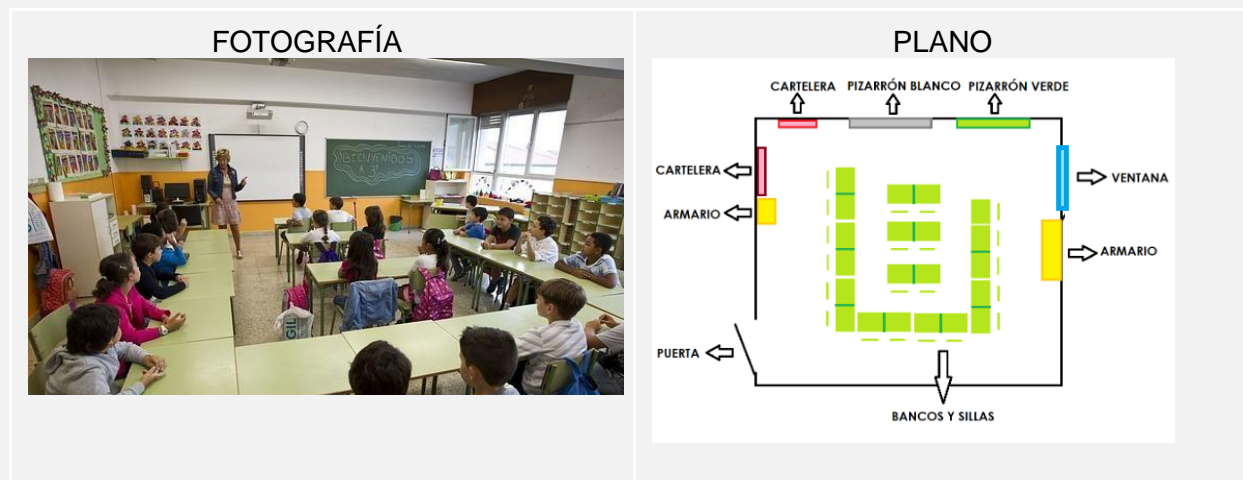


INTERPRETAR PLANOS DE DIFERENTES ESPACIOS FÍSICOS CONOCIDOS: AULA, PATIO, CASA.

EN ESTE MÓDULO VAMOS A HABLAR DE LOS PLANOS. ¿QUÉ SON LOS PLANOS? SON DIBUJOS QUE REPRESENTAN DISTINTOS LUGARES O ESPACIOS FÍSICOS. ESOS LUGARES EN LA REALIDAD TIENEN VOLUMEN, ES DECIR TIENEN 3 DIMENSIONES: ANCHO, LARGO Y ALTURA. PERO CUANDO SE LOS DIBUJA SE LOS REPRESENTA CHATOS O PLANOS, COMO INDICA EL NOMBRE, O SEA SOLO EN DOS DIMENSIONES: ANCHO Y LARGO. GENERALEMTE ESTAS REPRESENTACIONES SE HACEN OBSERVANDO Y ANALIZANDO EL ESPACIO DESDE ARRIBA. COMO SI ESTUVIERAMOS VIENDO EL LUGAR UBICADOS EN EL TECHO O EN EL CIELO.

VEAMOS EL EJEMPLO DE ESTA AULA:



COMO VERÁS EN EL PLANO SE REPRESENTAN ALGUNOS ELEMENTOS QUE HAY EN EL ESPACIO CON DETERMINADOS DIBUJOS O SÍMBOLOS QUE NO TIENEN QUE SER IGUALES A LOS DE LA REALIDAD.

PERO ESTOS DIBUJOS TIENEN QUE PERMITIR IDENTIFICARLOS.

ASÍ EN EL PLANO VEMOS LOS BANCOS DEL AULA, LOS ARMARIOS, LAS CARTELERAS, PIZARRONES, VENTANAS Y LA PUERTA. TODO ORDENADO COMO SE ENCUENTRA EN EL ESPACIO ORIGINAL.

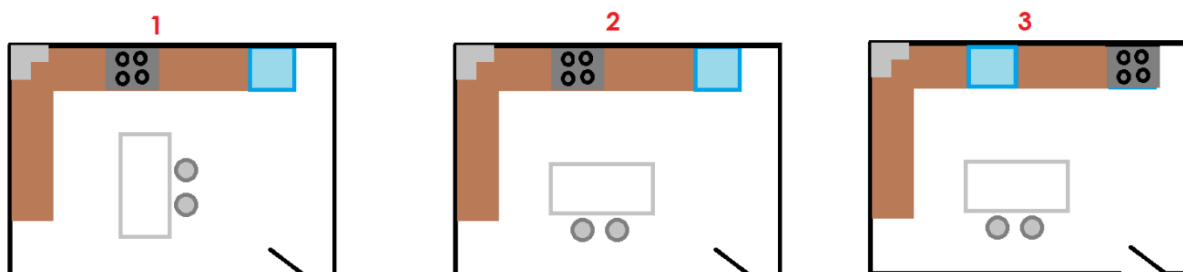
NOTARÁS QUE NO TODOS LOS ELEMENTOS DEL AULA ESTÁN DIBUJADOS, SOLO LOS MÁS ESTRUCTURALES.

ANALICEMOS AHORA LA FOTO DE ESTA COCINA.



¿QUÉ ELEMENTOS ESTRUCTURALES VEMOS EN ELLA? UNA MESADA CON FORMA DE L, EN LA QUE ESTÁN INCLUIDOS EL HORNO Y LAS HORNALLAS, UNA HELADERA, UNA MESA RECTANGULAR Y DOS BANQUETAS. MIRÁ BIEN EN DÓNDE ESTÁ UBICADA CADA COSA.

AHORA PENSEMOS: ¿CUÁL DE ESTOS PLANOS REPRESENTA ESTA COCINA?



EL PLANO QUE REPRESENTA LA COCINA ES EL 2, YA QUE EN ÉL LOS ELEMENTOS ESTÁN UBICADOS COMO EN LA FOTO.

EN CAMBIO, EN EL PLANO 1, LA MESA TIENE UNA ORIENTACIÓN DISTINTA A LA QUE DEBERÍA TENER, Y EN EL PLANO 3, LA HELADERA ESTÁ EN EL LUGAR DEL HORNO Y EL HORNO EN EL DE LA HELADERA.

POR OTRO LADO, LOS PLANOS PUEDEN SER TAMBIÉN DE ESPACIOS MÁS GRANDES COMO MUSEOS, BARRIOS Y CIUDADES.

ANALICEMOS ESTA PARTE DEL PLANO DE LA CIUDAD DE PUERTO MADRYN.

COMO VERÁN EN LA IMAGEN SE VEN ALGUNAS CALLES DE LA CIUDAD, SUS MANZANAS, EL MAR Y ALGUNOS PUNTOS DE INTERÉS TURÍSTICO.



¿POR QUÉ CREEN QUE ESTÁ ESTE SÍMBOLO EN EL MAR?  
¿SIGNIFICA QUE EN PUERTO MADRYN HAY DOS BALLENAS?  
NO, INDICA QUE EN ESTA ZONA PODEMOS ENCONTRAR BALLENAS.



¿ SABEN QUÉ SIGNIFICA ESTE SÍMBOLO?  
LO DEBÉS HABER VISTO VARIAS VECES.  
INDICA LA PRESENCIA DE BAÑOS.



ESTE SÍMBOLO, POR OTRA PARTE, INDICA QUE HAY UN PUESTO DE  
INFORMACIÓN TURÍSTICA.




ESTE SÍMBOLO INDICA QUE HAY UN BALNEARIO.

ESTOS SON ALGUNOS DE LOS SÍMBOLOS QUE NOS BRINDAN INFORMACIÓN EN ESTE  
PLANO.

**PARA TERMINAR, RECORDÁ:**

**LOS PLANOS SON REPRESENTACIONES PLANAS DE UN LUGAR Y NOS SIRVEN PARA  
UBICARNOS. EN ÉL APARECEN VARIOS ELEMENTOS DEL ESPACIO PERO NO TODOS.  
PARA INDICAR ESTOS ELEMENTOS SE USAN DISTINTOS SÍMBOLOS. ALGUNAS**

VECES SON DIBUJOS MUY SIMPLES DE LAS COSAS REALES COMO EN EL CASO DE LAS HORNALLAS DE LA COCINA, EN OTROS SE USAN IMÁGENES CONVENCIONALES

COMO  QUE NO NECESARIAMENTE ESTÁN MOSTRANDO AQUELLO QUE HAY EN EL LUGAR EN REALIDAD, PERO QUE TODOS ACORDAMOS QUE ASÍ ES.

## EJERCICIOS

1- ¿CUÁL DE ESTAS IMÁGENES ES UN PLANO?

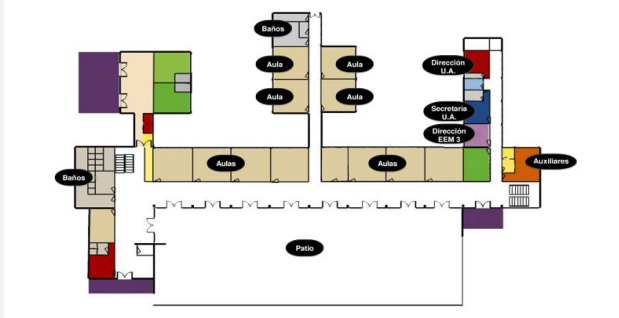
A-



B-



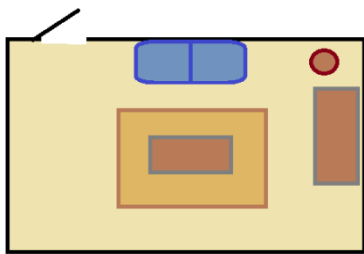
C- (CORRECTA)



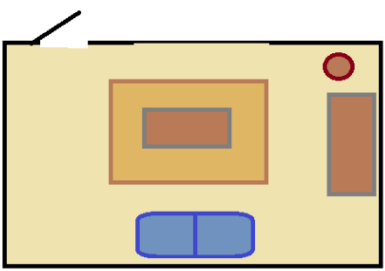
2- ¿CUÁL DE ESTOS PLANOS REPRESENTA EL LIVING DE LA CASA DE ANTONIO?



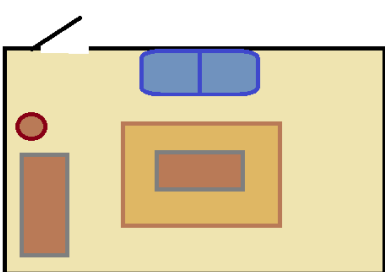
A) (CORRECTA)



B)

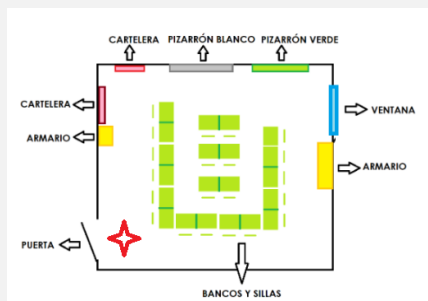


C)

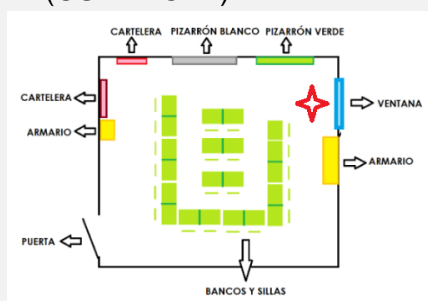


3- RENATA TERMINÓ RÁPIDO SU TAREA Y FUE A PARARSE FRENTE A LA VENTANA DEL AULA PARA TOMAR UN POCO DE AIRE FRESCO.  
¿CUÁL DE ESTAS ESTRELLITAS ROJAS MARCA CORRECTAMENTE EL LUGAR EN EL QUE SE PARÓ RENATA?

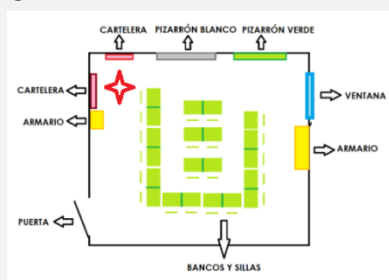
A-



B- (CORRECTA)



C-





4- ¿QUÉ SIGNIFICA ESTE SÍMBOLO  EN EL PLANO DE PUERTO MADRYN?



- A- IGLESIA
- B- MONUMENTO
- C- MUSEO (**CORRECTA**)

5- ¿DÓNDE ESTÁ UBICADA LA IGLESIA QUE APARECE EN ESTA PARTE DE LA CIUDAD DE PUERTO MADRYN?



- A- EN LA COSTA.
- B-FRENTE A LA PLAZA (**CORRECTA**)
- C- FRENTE AL MUSEO OCEANOGRÁFICO.

6- ¿ EN CUÁL DE LOS PLANOS ESTÁ BIEN REPRESENTADA JULIANA SI SE ENCUENTRA EN LA INTERSECCIÓN ENTRE LAS CALLES 25 DE MAYO Y ROQUE S. PEÑA? LA ESTRELLA ROJA INDICA SU UBICACIÓN.

A-



B- (CORRECTA)



C-





7- ¿CUÁL DE ESTOS RECORRIDOS NOS PERMITEN TRASLADARNOS DESDE EL MUSEO DE ARTE MODERNO HASTA LA PLAZA?

A- (CORRECTA)



B-

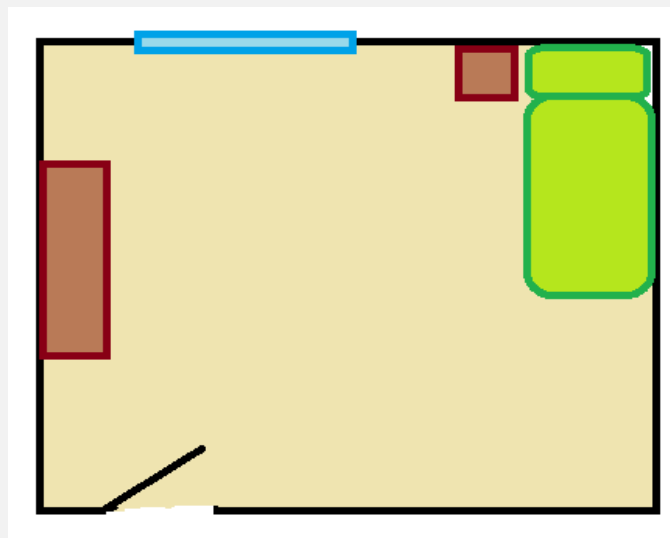


C-

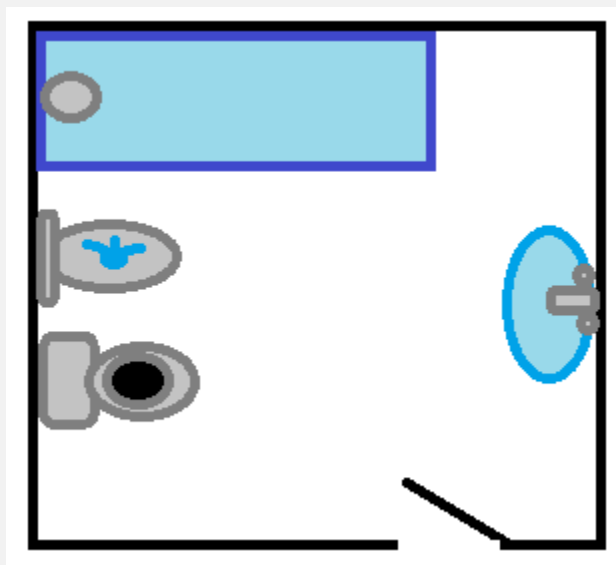


## PROBLEMAS

8- ESTE ES EL PLANO DEL CUARTO DE NEYÉN.  
LE ACABAN DE REGALAR UN ESCRITORIO Y QUIERE UBICARLO DEBAJO DE LA VENTANA. DIBUJALO.

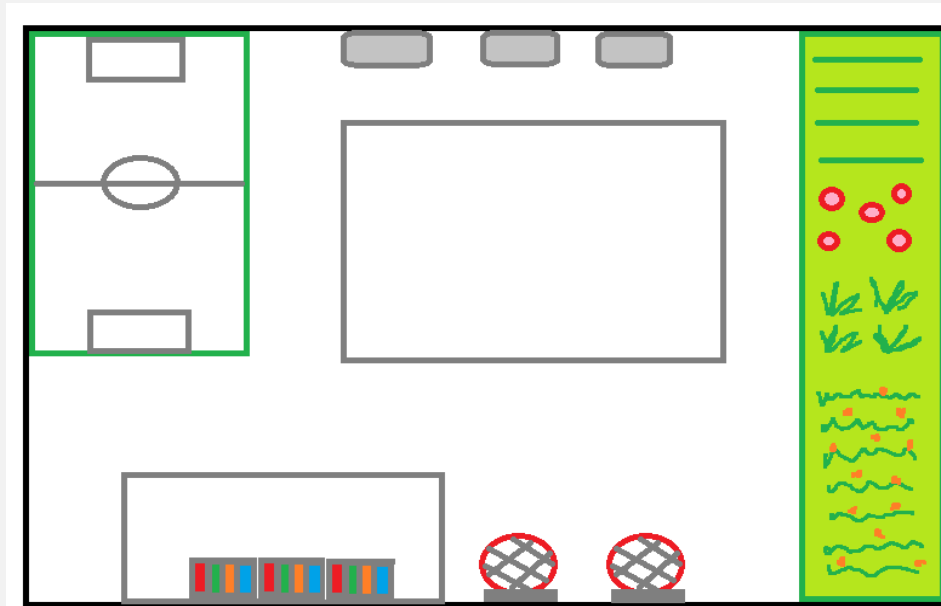


9- ESTE ES EL PLANO DEL BAÑO DE LUANA.  
QUIERE PONER UN PEQUEÑO ARMARIO ENTRE EL INODORO Y LA PARED EN LA QUE ESTÁ LA PUERTA.  
DIBUJALO.



10- ESTE ES EL PLANO DEL PATIO DE UNA ESCUELA.

COLOCÁ EL NOMBRE DE LOS DISTINTOS SECTORES EN LOS QUE SE DIVIDE:



- A) SECTOR HUERTA
- B) SECTOR FÚTBOL.
- C) SECTOR BÁSQUET.
- D) SECTOR DE LECTURA: ESTÁ AL LADO DE LOS AROS DE BASQUET.
- E) SECTOR DE JUEGOS TRANQUILOS; ESTÁ ENTRE LA CANCHA DE FÚTBOL Y LA HUERTA.

11- JUANA ESTÁ PASEANDO POR PUERTO MADRYN.

QUIERE IR DESDE LA SECRETARÍA DE TURISMO HASTA EL BALNEARIO QUE SE ENCUENTRA SEÑALADO EN ESTE MAPA.

MARCÁ CON UN COLOR EL RECORRIDO QUE PUEDE HACER.



12- MÁS TARDE, JUANA SE ENCUENTRA EN LA PLAZA QUE ESTÁ FRENTE A LA IGLESIA Y DESEA IR AL MUELLE.

¿POR QUÉ CALLES PUEDE CAMINAR PARA LLEGAR?



13-ELEGÍ UN AMBIENTE DE TU CASA Y DIBUJÁ SU PLANO.

RECORDÁ QUE TENÉS QUE REPRESENTAR EL LUGAR VISTO DESDE ARRIBA.

14- IMAGINÁ CÓMO SERÍA LA MEJOR ESCUELA DEL MUNDO Y DIBUJÁ SU PLANO.